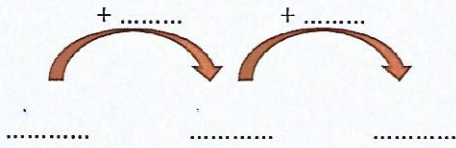
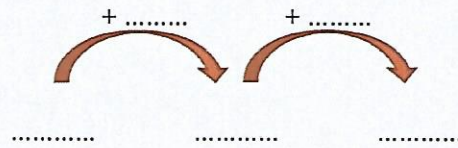


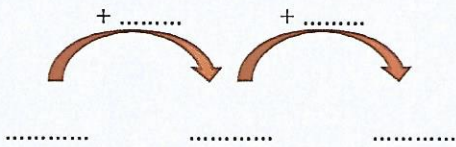
Combien faut-il à 237 pour faire 1000 ?



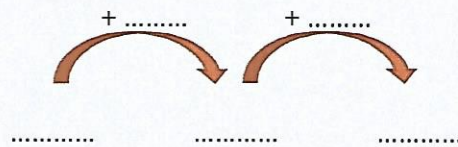
Combien faut-il à 478 pour faire 1000 ?



Combien faut-il à 661 pour faire 1000 ?



Combien faut-il à 826 pour faire 1000 ?



9. **Complète** ce tapis que tu dois connaître **PAR CŒUR** ainsi que les calculs.

1000										1000 c'est : 2 x 4 x 8 x 5 x 10 x
.....									
.....				
.....	
.....				
.....	

10. **Résous** les différents calculs en utilisant les tables de multiplication.

N'oublie pas de décomposer et d'utiliser les parenthèses.

- $236 \times 4 =$
- $431 \times 5 =$
- $125 \times 9 =$
- $341 \times 7 =$
- $431 \times 3 =$