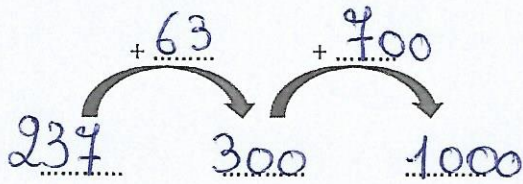
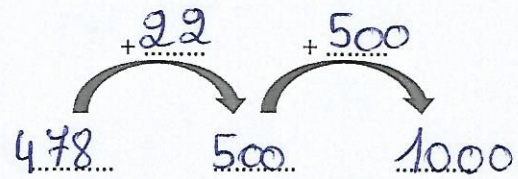


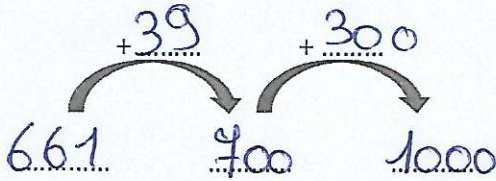
Combien faut-il à 237 pour faire 1000 ?



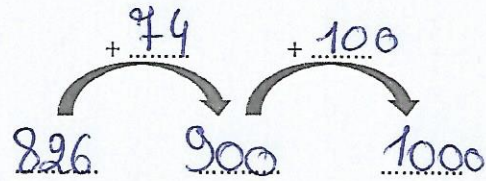
Combien faut-il à 478 pour faire 1000 ?



Combien faut-il à 661 pour faire 1000 ?



Combien faut-il à 826 pour faire 1000 ?



9. Complète ce tapis que tu dois connaître **PAR CŒUR** ainsi que les calculs.

1000										1000 c'est :
500					500					2 x 500
250		250			250		250			4 x 250
125	125	125	125	125	125	125	125	125	125	8 x 125
200		200		200		200		200		5 x 200
100	100	100	100	100	100	100	100	100	100	10 x 100

10. Résous les différents calculs en utilisant les tables de multiplication.

N'oublie pas de décomposer et d'utiliser les parenthèses.

- $236 \times 4 = (200 \times 4) + (30 \times 4) + (6 \times 4) = 944$
- $431 \times 5 = (400 \times 5) + (30 \times 5) + (1 \times 5) = 2155$
- $125 \times 9 = (100 \times 9) + (20 \times 9) + (5 \times 9) = 1125$
- $341 \times 7 = (300 \times 7) + (40 \times 7) + (1 \times 7) = 2387$
- $431 \times 3 = (400 \times 3) + (30 \times 3) + (1 \times 3) = 1293$