

Les unités de longueur

TRUC !

Retiens ceci :

1 kilomètre = 1 000 mètres

1 mètre = 10 décimètres = 100 centimètres = 1 000 millimètres

1 décimètre = 10 centimètres = 100 millimètres

1 centimètre = 10 millimètres

1. Complète !

$1 \text{ km} = \dots\dots\dots \text{ m}$

$10 \text{ m} = \dots\dots\dots \text{ dm}$

$10 \text{ mm} = \dots\dots\dots \text{ cm}$

$5 \text{ km} = \dots\dots\dots \text{ m}$

$2 \text{ m} = \dots\dots\dots \text{ dm}$

$60 \text{ mm} = \dots\dots\dots \text{ cm}$

$45 \text{ km} = \dots\dots\dots \text{ m}$

$300 \text{ m} = \dots\dots\dots \text{ dm}$

$700 \text{ mm} = \dots\dots\dots \text{ cm}$

$1\ 000 \text{ m} = \dots\dots\dots \text{ km}$

$45 \text{ cm} = \dots\dots\dots \text{ mm}$

$6\ 000 \text{ m} = \dots\dots\dots \text{ km}$

$10 \text{ cm} = \dots\dots\dots \text{ mm}$


$48\ 000 \text{ m} = \dots\dots\dots \text{ km}$

$500 \text{ cm} = \dots\dots\dots \text{ mm}$




2. Colorie la bonne longueur sur la règle !


1 dm



35 mm



5 cm



110 mm

