



**4. Écris sur les tirets les mots qui ont le même sens que ce qui est souligné.**

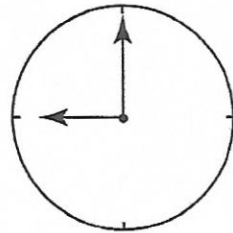
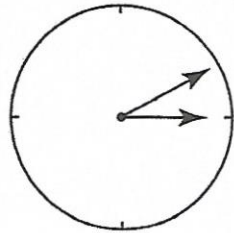
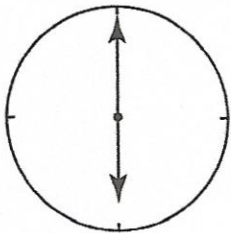
Les chasseurs considéraient Tartarin comme le seul juge valable à propos de la chasse.

Ces messieurs en avaient fait leur grand

j - - - - - c - - - - - .



**5. Regarde attentivement l'heure donnée par chaque pendule. Colorie celle qui indique un moment où on est sûr de trouver les chasseurs rassemblés chez l'armurier.**



**6. Autrefois, on mesurait les distances en lieues.**

Une lieue = 4 kilomètres environ.

À quelle distance, autour de Tarascon, les terriers étaient-ils vides ?

À ..... lieues ou ..... kilomètres.



**7. Relis le texte afin de retrouver la forme des vols de canards. Repasse ces vols en couleur sur le dessin.**

